

Пояснительная записка

Демоверсия промежуточной аттестации по истории 10 класс.

Итоговый контроль состоит из одной части включающую задания на определение последовательности расположения данных элементов, на установление соответствия элементов, данных в нескольких информационных рядах, на определение по указанным признакам и запись в виде понятий, знание терминов, на работу с иллюстрациями и исторической картой (схемой).

Диагностическая работа охватывает содержание курса Истории России с древнейших времен по XIX века с включением элементов всеобщей истории (история войн, дипломатии, экономических связей и т.п.) и нацелена на выявление образовательных достижений выпускников средних общеобразовательных учреждений. Задания КИМ охватывают значительный пласт фактического материала. В то же время особое внимание уделяется проверке аналитических и информационно-коммуникативных умений выпускников. Акцентируется внимание на заданиях, направленных на проверку умений: систематизировать исторические факты; устанавливать причинно-следственные, структурные и иные связи; использовать источники информации разных типов (текстовый источник, таблица, историческая карта, иллюстрация) для решения познавательных задач. Диагностическая работа состоит из заданий базового и повышенного уровня сложности. К заданиям базового уровня сложности относятся те задания, где учащимся 11 класса предлагается выполнить операцию узнавания даты, факта и т. п., опираясь на представленную в явном виде информацию. К повышенному уровню сложности относятся задания, в которых от обучающихся требуется самостоятельно воспроизвести, частично преобразовать и применить информацию в типовых в типичных ситуациях, в том числе при работе с иллюстрациями картой (схемой).

Для обозначения частей и заданий используются цифры 1, 2, 3, 4 и т.д.

Система оценивания.

Задание с кратким ответом считается выполненным верно, если правильно указаны цифра или последовательность цифр, требуемое слово (словосочетание). Полный правильный ответ на задания 1, 4-6, 9-11, 13, 14 оценивается 1 баллом; неполный, неверный ответ или его отсутствие – 0 баллов. Полный правильный ответ на задания 2, 3, 8, 12 оценивается 2 баллами; если допущена одна ошибка (в т.ч. отсутствует одна из цифр или имеется одна лишняя цифра) – 1 балл; если допущено две и более ошибок (в т.ч. отсутствуют две и более цифры или имеются две и более лишних цифр) или ответ отсутствует – 0 баллов. Полный правильный ответ на задание 7 оценивается 3 баллами; если допущена одна ошибка – 2 балла; допущено две-три ошибки – 1 балл; допущено четыре и более ошибок или ответ отсутствует – 0 баллов. Максимальный первичный балл за выполнение всей работы – 20. Отметка «2» за работу выставляется, если набранный выпускником первичный балл составил менее 7, за 7–13 баллов выставляется отметка «3», за 14–17 – отметка «4», за 18–20 балл – отметка «5».

Шкала перевода набранных баллов в отметку:

- 0-6 балла – «2»;
- 7- 13 баллов – «3»;
- 14- 17 баллов – «4»;
- 18-20 баллов – «5».

На выполнение контрольной работы отводится 40 минут. С учетом конкретных условий учитель может вносить в текстовые работы свои коррективы.

Контрольных измерительных материалов для проведения Итогового контроля по истории в 10 классе.

1. Назначение КИМ - представляет собой форму объективной оценки качества подготовки лиц, освоивших образовательные программы среднего общего образования, с использованием заданий стандартизированной формы (контрольных измерительных материалов). Контрольные измерительные материалы позволяют установить уровень освоения десятиклассниками Федерального компонента государственного стандарта среднего (полного) общего образования по истории, базовый и профильный уровень.

2. Документы, определяющие содержание КИМ

Содержание диагностической работы определяет Федеральный компонент государственного стандарта среднего (полного) общего образования, базовый и профильный уровни (приказ Минобрнауки России от 05.03.2004 № 1089) и Историко-культурный стандарт, являющийся частью Концепции нового учебно-методического комплекса по Отечественной истории.

3. Подходы к отбору содержания, разработке структуры КИМ

Диагностическая работа охватывает содержание курса истории России с древнейших времен по XIX века с включением элементов всеобщей истории (история войн, дипломатии, экономических связей и т.п.) и нацелена на выявление образовательных достижений выпускников средних общеобразовательных учреждений. Задания КИМ охватывают значительный пласт фактического материала. В то же время особое внимание уделяется проверке аналитических и информационно-коммуникативных умений выпускников. Акцентируется внимание на заданиях, направленных на проверку умений: систематизировать исторические факты; устанавливать причинно-следственные, структурные и иные связи; использовать источники информации разных типов (таблица, историческая карта, иллюстрация) для решения познавательных задач.

Все указанное выше позволяет качественно дифференцировать участников по уровню их исторической подготовки.

4. Характеристика структуры и содержания диагностической работы

Каждый вариант диагностической работы состоит из одной части и включает в себя 14 заданий, базового и повышенного уровней сложности, с кратким ответом. В диагностической работе предложены следующие разновидности заданий с кратким ответом:

- задания на выбор нескольких правильных ответов из предложенного перечня ответов;
- задания на определение последовательности расположения данных элементов; – задания на установление соответствия элементов, данных в нескольких информационных рядах;
- задания на определение по указанным признакам и запись в виде слова (словосочетания) термина, названия, имени, века, года и т.п..

Ответ на задания дается соответствующей записью в виде цифры или последовательности цифр, записанных без пробелов и разделительных символов; слова или словосочетания (также записывается без пробелов и разделительных символов).

Таблица 1. Распределение заданий по частям контрольной работы

Части работы	Количество заданий	Максимальный первичный балл	Тип заданий
Часть 1	14	20	с кратким ответом и набора цифр
Итого	14	20	

5. Распределение заданий диагностической работы по содержанию, проверяемым умениям и видам деятельности

Диагностическая работа охватывает содержание курса истории России с древнейших времен по XIX века. с включением элементов всеобщей истории (история войн, дипломатии, культуры, экономических связей и т.п.) и нацелена на выявление образовательных достижений выпускников средних общеобразовательных учреждений. Значимость проверяемых фактов.

- Отражение различных аспектов истории: экономики, социальных отношений, внутренней и внешней политики, материальной и духовной культуры.

- Пропорциональность представления заданий, связанных с различными периодами времени. Каждое из остальных заданий может проверять знание различных периодов времени истории России с древнейших времен по XIX века, но устанавливается такое сочетание заданий, чтобы в совокупности они охватывали основные содержательные разделы курса истории России с древнейших времен по XIX века

Таблица 2. Распределение заданий по проверяемым умениям и видам деятельности

Код	Виды умений и познавательной деятельности	Число заданий	Максимальный первичный балл	Процент максимального первичного балла за всю работу, равного 20
1	Знание основных фактов, процессов и явлений, характеризующих целостность отечественной и всемирной истории, периодизации всемирной и отечественной истории	1	1	5 %
2.1	Умение проводить поиск исторической информации в источниках разного типа	1	2	10%
2.3	Умение анализировать историческую информацию, представленную в разных знаковых системах (таблица, историческая карта (схема), иллюстрация)	6	9	45%
2.6	Умение систематизировать разнообразную историческую информацию на основе своих представлений об общих закономерностях исторического процесса	6	8	40%
	Итого	10	20	100%

6. Распределение заданий КИМ по уровню сложности.

В основу распределения заданий по уровню сложности положена характеристика видов деятельности, используемых учащимися при выполнении соответствующих заданий.

К заданиям базового уровня сложности относятся те задания, где учащимся 11 класса предлагается выполнить операцию узнавания даты, факта и т. п., опираясь на представленную в явном виде информацию.

К повышенному уровню сложности относятся задания, в которых от учащегося требуется самостоятельно воспроизвести, частично преобразовать и применить информацию в типовых ситуациях. При этом деятельность учащегося является по преимуществу репродуктивной.

7. Продолжительность итоговой диагностической работы

На выполнение работы отводится 40 минут.

8. Система оценивания отдельных заданий и работы в целом.

Задание с кратким ответом считается выполненным верно, если правильно указаны цифра или последовательность цифр, требуемое слово (словосочетание). Полный правильный ответ на задания 1, 4-6, 9-11, 13, 14 оценивается 1 баллом; неполный, неверный ответ или его отсутствие – 0 баллов. Полный правильный ответ на задания 2, 3, 8,12 оценивается 2 баллами; если допущена одна ошибка (в т.ч. отсутствует одна из цифр или имеется одна лишняя цифра) – 1 балл; если допущено две и более ошибок (в т.ч. отсутствуют две и более цифры или имеются две и более лишних цифр) или ответ отсутствует – 0 баллов. Полный правильный ответ на задание 7 оценивается 3 баллами; если допущена одна ошибка – 2 балла; допущено две-три ошибки – 1 балл; допущено четыре и более ошибок или ответ отсутствует – 0 баллов. Максимальный первичный балл за выполнение всей работы – 20. Отметка «2» за работу выставляется, если набранный выпускником первичный балл составил менее 7, за 7– 13 баллов выставляется отметка «3», за 14– 17 – отметка «4», за 18–20 балл – отметка «5».

9. Обобщённый план варианта итоговой диагностической работы по истории

Обозначение заданий в работе и бланке ответов: *ВО*- выбор ответа, *КО* – краткий ответ, *РО*- развернутый ответ. Уровни сложности задания: *Б* – базовый, *П* – повышенный

№ задания	Обозначение задания в работе	Проверяемое содержание	Проверяемые виды деятельности	Коды проверяемых умений	Уровень сложности	Максимальный балл за задание
1	КО	XII-XIX вв.	Умение определять последовательность событий	2.6	П	1
2	КО	XV в.	Систематизация исторической информации (множественный выбор)	2.6	П	2
3	КО	XVI в.	Систематизация исторической информации (соответствие)	2.6	П	2
4	КО	XV-XVII вв.	Различное содержание в разных вариантах (выбор одного элемента из данного ряда)	2.6	Б	1
5	КО	XVIII в.	Различное содержание в разных вариантах (определение термина по нескольким признакам)	2.6	Б	1

<i>№ задания</i>	<i>Обозначение задания в работе</i>	<i>Проверяемое содержание</i>	<i>Проверяемые виды деятельности</i>	<i>Коды проверяемых умений</i>	<i>Уровень сложности</i>	<i>Максимальный балл за задание</i>
6	КО	XVIII в.	Различное содержание в разных вариантах (определение термина по нескольким признакам)	2.6	Б	1
7	КО	XVI-XIX вв.	Различное содержание в разных вариантах (систематизация исторической информации, представленной в различных знаковых системах (таблица))	2.3	П	3
8	КО	XIX в.	Комплекс умений работать с текстовыми историческими источниками.	2.1	П	2
9	КО	XIX в.	Различное содержание в разных вариантах (работа с исторической картой (схемой))	2.3	Б	1
10	КО	XIX в.	Различное содержание в разных вариантах (работа с исторической картой (схемой))	2.3	Б	1
11	КО	XIX в.	Различное содержание в разных вариантах (работа с исторической картой (схемой))	2.3	Б	1
12	КО	XIX в.	Различное содержание в разных вариантах (работа с исторической картой (схемой))	2.3	П	2

<i>№ задания</i>	<i>Обозначение задания в работе</i>	<i>Проверяемое содержание</i>	<i>Проверяемые виды деятельности</i>	<i>Коды проверяемых умений</i>	<i>Уровень сложности</i>	<i>Максимальный балл за задание</i>
13	КО	XIX в.	Различное содержание в разных вариантах (анализ иллюстративного материала)	2.3	П	1
14	КО	XIX в.	Знание основных фактов, процессов, явлений	1	Б	1

Итоговый контроль по истории КИМ 10 класс.

1 вариант

1. Расположите в хронологической последовательности исторические события. Запишите цифры, которыми обозначены исторические события, в правильной последовательности в ответ.

- 1) Невская битва; 2) реформа Патриарха Никона; 3) свержение ордынского владычества
4) учреждение Сената; 5) Крымская война

2. Выберите из списка три исторические личности, связанные с княжением Ивана III. Запишите номера, под которыми они указаны, в ответ.

- 1) хан Ахмат; 2) хан Тохтамыш; 3) Сергей Радонежский; 4) Иосиф Волоцкий
5) Софья Палеолог; 6) Елена Глинская

3. Установите соответствие между определениями и понятиями.

ОПРЕДЕЛЕНИЯ

ПОНЯТИЯ

- А) плата, взимаемая с крестьянина при переходе от одного владельца к другому
Б) земли, даваемые Иваном Грозным в личное пользование служилым людям на условиях службы государю
В) годы, в которые запрещался переход крестьян от одного феодала к другому в Юрьев день
Г) часть земли, выделенная Иваном Грозным в управление боярам

- 1) заповедные лета
2) земщина
3) опричина
4) пожилое
5) поместье

4. Ниже приведён перечень терминов. Все они, за исключением одного, связаны с процессом закрепощения крестьян. Найдите и запишите термин, относящийся к другому историческому периоду.

- 1) Юрьев день, 2) урочные лета, 3) пожилое, 4) заповедные лета, 5) уставная грамота, 6) Соборное уложение.

5. Ниже приведён ряд имён видных государственных и военных деятелей. Все они, за исключением одного, относятся к XVIII в. Найдите и запишите имя государственного деятеля, не относящегося к данному периоду.

- Меншиков, Потёмкин, Миних, Румянцев, Канкрин.

6. Напишите пропущенное словосочетание.

Одним из самых важных событий первых лет царствования Екатерины II был созыв _____, депутатами которой были представители всех слоёв населения, кроме крепостных крестьян и духовенства.

7. Заполните пустые ячейки таблицы, используя представленные в приведённом ниже списке данные. Для каждой ячейки, обозначенной буквой, выберите номер нужного элемента.

Правитель	Годы правления	Современник правителя
император Петр I	1682—1725 гг.	_____ (А)
_____ (Б)	_____ (В)	Никон
императрица Елизавета Петровна	_____ (Г)	М. Ломоносов
_____ (Д)	1801—1825 гг.	_____ (Е)

Пропущенные элементы:

- 1) царь Алексей Михайлович
2) император Александр I
3) А. Д. Меншиков
4) М. М. Сперанский
5) 1645—1676 гг.
6) 1741—1761 гг.
7) 1762—1796 гг.
8) А. И. Желябов
9) 1613—1645 гг.

8. Прочтите отрывок из воспоминаний современника.

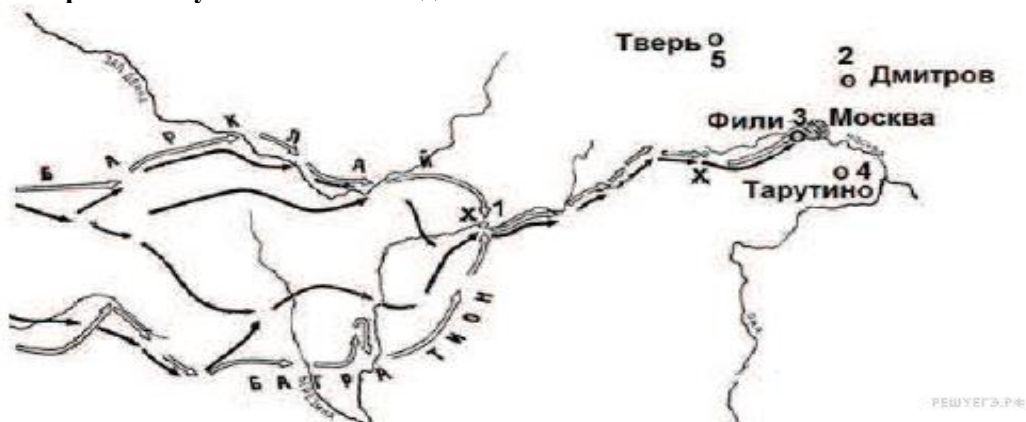
«[Александр I] сознавал, что ему невозможно высказать свои чувства откровенно и проявлять их перед обществом, столь мало подготовленным для восприятия этих идей. <...>

Чтобы до известной степени смягчить это печальное противоречие с самим собою, Александр образовал род <...> комитета, составленного из лиц, которых он считал своими личными друзьями, разделявшими его взгляды и убеждения... Каждый нёс туда свои мысли, свои работы, свои сообщения о текущем ходе правительственных дел и о замеченных злоупотреблениях власти. Император вполне откровенно раскрывал перед нами свои мысли и свои истинные чувства. <...> Не было ни одного внутреннего улучшения, ни одной полезной реформы, намеченной или проведённой в России в царствование Александра, которые не зародились на этих именно тайных совещаниях».

Используя отрывок, выберите в приведённом списке три верных суждения. Запишите в ответ цифры, под которыми они указаны.

- 1) Комитет, о котором говорится в тексте, получил в истории название «Негласный».
- 2) Одним из членов комитета был А. А. Аракчеев.
- 3) Комитет просуществовал до 1825 г.
- 4) Большое влияние на членов комитета оказывали идеи Эпохи Просвещения.
- 5) Автор воспоминаний позитивно относится к деятельности комитета.
- 6) Участники комитета были сторонниками социалистических преобразований.

9. Рассмотрите схему и выполните задания



Напишите имя полководца, вторжение войск которого в Россию показано на схеме.

10. Напишите название города, обозначенного на схеме цифрой «1».

11. Напишите цифру, обозначающую населённый пункт, в котором русские войска встали лагерем после оставления Москвы.

12. Какие суждения, относящиеся к событиям, связанным со схемой, являются верными? Выберите три суждения из шести предложенных. Запишите в таблицу цифры, под которыми они указаны.

- 1) С начала изображённых на карте военных действий русские войска преследовали вторгшегося неприятеля.
- 2) В ходе данной войны русские войска возглавил М. И. Кутузов.
- 3) Самое кровопролитное сражение этой войны произошло под Вязьмой.
- 4) В ходе событий, указанных на схеме, в России развернулась народная война против неприятеля.
- 5) Указанные на схеме военные действия длились больше года.
- 6) Вторгшаяся в Россию неприятельская армия получила в истории название «Великая армия».

13. Рассмотрите изображение и выполните задание



Какие суждения о медали, изображённой на рисунке, являются верными?

Выберите два суждения из пяти предложенных. Запишите в таблицу цифры, под которыми они указаны.

- 1) Среди участников войны, отмеченных этой медалью, были М. А. Милорадович и Н. Н. Раевский.
- 2) Война, участники которой получали эту медаль, завершилась победой России.
- 3) Медаль украшена вензелями двух императоров, так как император, при котором началась война, в ходе неё лишился трона в результате дворцового переворота.
- 4) Мирный договор, завершивший войну, которой посвящена данная медаль, был подписан в Париже.
- 5) Война, участники которой получали эту медаль, стала одной из причин реформы, изменившей социальную структуру российского общества.

14. При каком российском императоре началась Крымская война

Итоговый контроль по истории

КИМ 10 класс.

2 вариант

1. Расположите в хронологическом порядке следующие события. Запишите цифры, которыми обозначены события, в правильной последовательности в ответ.

- 1) воцарение Романовых; 2) церковный раскол; 3) пугачёвский бунт
4) Смута; 5) реформы Петра I.

2. Какие три из перечисленных ниже лиц были современниками князя Ивана III? Соответствующие цифры запишите в ответ.

- 1) Софья Палеолог; 2) хан Ахмат; 3) Мамай; 4) Аристотель Фиораванти;
5) Доминико Трезини; 6) Сергей Радонежский.

3. Установите соответствие между историческими личностями и их деятельностью.

ИСТОРИЧЕСКИЕ ЛИЧНОСТИ

ДЕЯТЕЛЬНОСТЬ

- | | |
|--------------------|---|
| А) Макарий | 1) митрополит московский, венчавший Ивана IV на царство |
| Б) Иван Фёдоров | 2) деятель опричнины |
| В) Малюта Скуратов | 3) деятель Избранной Рады |
| Г) А. Ф. Адашев | 4) игумен Соловецкого монастыря |
| | 5) книгопечатник |

4. Ниже приведён перечень терминов. Все они, за исключением одного, относятся к событиям, явлениям XVI–XVII вв.

- 1) Заповедные лета; 2) белые слободы; 3) подворная подать; 4) урочные лета;
5) ордынский выход; 6) воеводы

5. Ниже приведён ряд имён видных государственных деятелей. Все они, за исключением одного, относятся к XVIII в. Найдите и запишите имя государственного деятеля, не относящегося к данному периоду.

Меншиков, Потёмкин, Орлов, Румянцев, Бенкендорф.

6. Напишите пропущенное слово.

Одно из направлений в литературе и искусстве XVIII в., отличающееся обращением к античному наследию как образцу, называется _____.

7. Заполните пустые ячейки таблицы, используя представленные в приведённом ниже списке данные. Для каждой ячейки, обозначенной буквами, выберите номер нужного элемента.

Правитель	Событие	Век
Иван Грозный	_____ (А)	XVI в.
_____ (Б)	Церковный раскол	_____ (В)
_____ (Г)	Прутский поход	XVIII в.
Екатерина II	Восстание Е. Пугачева	_____ (Д)
Николай I	_____ (Е)	XIX в.

Пропущенные элементы:

- | | |
|-----------------------|-----------------------|
| 1) Семилетняя война | 6) Петр I |
| 2) Ливонская война | 7) XIX в. |
| 3) Алексей Михайлович | 8) Елизавета Петровна |
| 4) XVII в. | 9) XVIII в. |
| 5) Крымская война | |

8. Прочтите отрывок из документа.

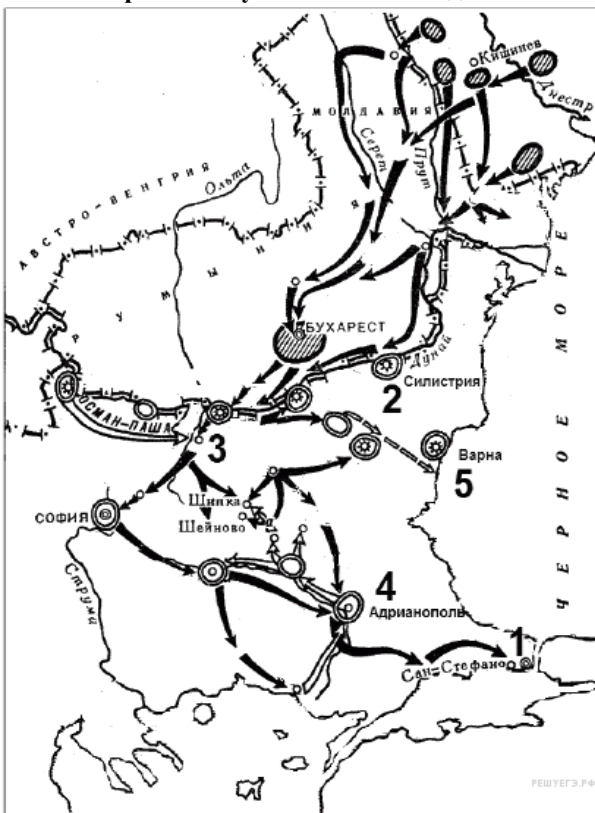
«Поутру увидел на улице кучки народа... Народ со всех концов спешит на Сенатскую площадь... Я побежал на площадь. Народ запрудил всю площадь и волновался, как бурное море. В волнах этого моря виднелся небольшой островок, — это было ваше каре... Я видел царя, окружённого своим штабом и уговаривающего народ разойтись по домам, слышал, как беснующаяся толпа кричала ему в ответ: "Не пойдём, умрём вместе с ними!" Видел, как понеслась на вас кавалерия... с

каким диким остервенением толпы народа отразили второй натиск поленьями дров, и я, грешный человек, метнул одно полено в бок артиллеристу... видел я и тебя, как ты при третьей атаке стал против солдат, готовых дать залп, от которого вся эта кавалерия, обскакивающая каре, легла бы лоском, - как ты скомандовал: "Оставь!"... Видел, как смертельно раненный Милорадович, шатаясь в седле, поскакал прочь от непокорных солдат, и наконец услышал роковой выстрел из пушки. Второй выстрел повалил множество из передовых. Народ прыснул во все стороны. Третий выстрел был направлен на открытое каре...»

Используя отрывок, выберите в приведённом списке три верных суждения. Запишите в ответ цифры, под которыми они указаны.

- 1) Описанные в документе события произошли в г. Санкт-Петербурге.
- 2) Царя, о котором упоминает автор, звали Николай I.
- 3) Участники выступления, о котором говорит автор, — это петрашевцы.
- 4) Император помиловал руководителей выступления.
- 5) Участники выступления пытались предотвратить кровопролитие.
- 6) Выступление завершилось убийством царя.

9. Рассмотрите схему и выполните задания.



9. Напишите имя российского императора, к годам правления которого относится данная война.


10. Напишите название города, который обозначен на карте цифрой «1».

11. Напишите название обозначенной на карте цифрой «3» крепости, которая в ходе войны длительный период осаждалась основными силами русской армии.

12. Какие суждения, относящиеся к событиям, связанным со схемой, являются верными? Выберите три суждения из шести предложенных. Запишите в таблице цифры, под которыми они указаны.

- 1) Результатом войны стало приобретение независимости Греции.
- 2) Во время войны особо отличился русский полководец М. Д. Скобелев.
- 3) Война получила название Крымской.
- 4) Союзником России в этой войне была Великобритания.
- 5) Противником России в этой войне была Османская империя.
- 6) По условиям мирного договора, заключённого по итогам этой войны, Сербия получила независимость.

13. Рассмотрите изображение и выполните задание



Какие суждения об изображённых на картине событиях являются верными? Выберите два суждения из пяти предложенных. Запишите в таблице цифры, под которыми они указаны.

- 1) На картине изображены события, относящиеся к первой половине XIX в.
- 2) Этой железной дороге посвятил стихотворение А. С. Пушкин.
- 3) Куратором строительства дороги был назначен А. А. Аракчеев.
- 4) На картине изображена Транссибирская железная дорога.
- 5) Событие, изображённое на картине, положило начало промышленному перевороту в России.

14. При каком императоре была построена первая железная дорога?